

【解答】正方形の頂点を A,B,C,D とし、監視員は A に居るとする。プールの中 (縁を含む) の点を P とし、「A から P にかかる最短時間」の最大値を求める。対称性から P は $\triangle ABC$ (周および内部) 上を動くとしてよい。このとき線分 AB または BC 上の点を Q とし、監視員は点 Q から水中に入り P へ行くとする。

(1) Q が辺 AB 上にあるとき

l を「A を通り 図のように AB と 30° で交わる半直線」、P,Q から l に下ろした垂線の足をそれぞれ A',G とすると

$$\overline{GQ} = \frac{1}{2} \overline{AQ}$$

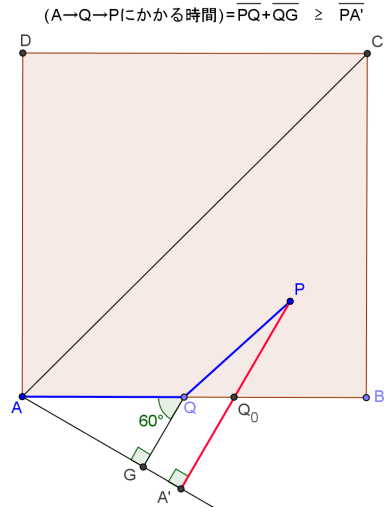
よって

$$(A \rightarrow Q \rightarrow P \text{ にかかる時間}) = \frac{1}{2} \overline{AQ} + \overline{QP} = \overline{GQ} + \overline{QP} \geq \overline{PA'}$$

等号は Q が線分 PA' と AB の交点に来たとき成り立つから、この場合の最短時間は

$$\overline{PA'}$$

... ①



(2) Q が辺 BC 上にあるとき

図のように、 A_1 は、直線 CB 上で「 $\overline{A_1B} = \overline{AB}$ 」となる点、m は「 A_1 を通り BC と 30° で交わる半直線」、P,Q から m に下ろした垂線の足をそれぞれ A'',H、さらに B から直線 QH に下ろした垂線の足を K とすると

$$\overline{KH} = \frac{1}{2} \overline{AB}, \quad \overline{KQ} = \frac{1}{2} \overline{BQ}$$

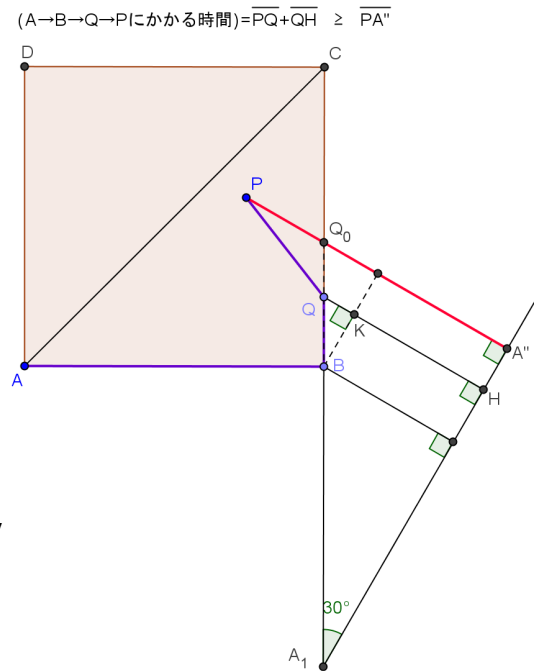
よって

$$(A \rightarrow B \rightarrow Q \rightarrow P \text{ にかかる時間}) = \frac{1}{2} \overline{AB} + \frac{1}{2} \overline{BQ} + \overline{QP} = \overline{HK} + \overline{KQ} + \overline{QP} \geq \overline{PA''}$$

等号は Q が線分 PA'' と BC の交点に来たとき成り立つから、この場合の最短時間は

$$\overline{PA''}$$

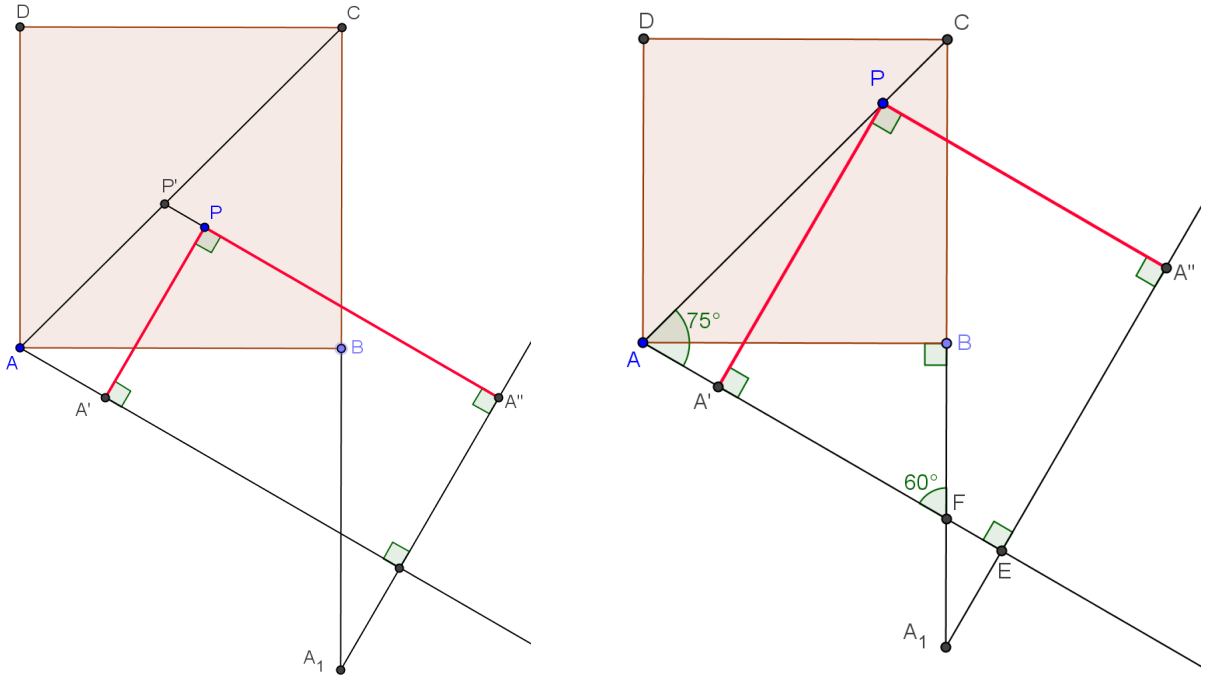
... ②



直線 AC に関する対称性から「①と②の最小値」が「A から P までの最短時間」となる。

(3) P が線分 AC 上にないとき、直線 A''P と AC の交点を P' とすると、「P' から l までの距離」と「P から l までの距離」は変わらず、「P' から m までの距離」は「P から m までの距離」より長い。故に A から P や P' に行くとき、「B を通らないなら」P と P' は同じ時間が掛かり、「B を通るなら」P' の方が長く掛かる。ゆえに「P が対角線 AC 上にあるとき」の最短所要時間の最大値 M を求めれば良い。注1)

以下 P は線分 AC 上にあるとする。P が A から C に向かって動くとき、 $\overline{PA'}$ は増加し $\overline{PA''}$ は減少する。ゆえに最短所要時間が最大となる点 P は $\overline{PA'} = \overline{PA''}$ をみたす点である。



このとき l と m の交点を E, l と直線 BC の交点を F とすると、

$$\overline{AE} = \overline{AF} + \overline{FE} = \frac{20}{\sqrt{3}} + \frac{1}{2} \left(10 - \frac{10}{\sqrt{3}} \right) = 5(1 + \sqrt{3})$$

ゆえに「 $\overline{AP'} = \overline{PA''} = x$ 」とおくと、

$$(\tan 15^\circ)x + x = \overline{AE} = 5(1 + \sqrt{3})$$

$$\therefore x = \frac{5(1 + \sqrt{3})}{1 + \tan 15^\circ} = \frac{5(1 + \sqrt{3})}{1 + (2 - \sqrt{3})} = \frac{5(3 + 2\sqrt{3})}{3}$$

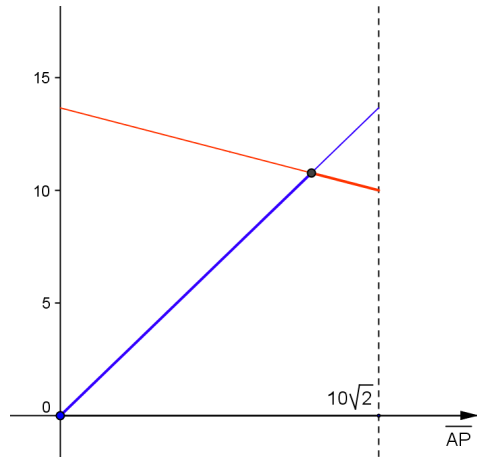
即ち 求める所要時間は

$$\frac{5(3 + 2\sqrt{3})}{3} \text{ 秒 } (\approx 10.7735 \text{ 秒}) \quad \dots(\text{答})$$

注1) 「P が線分 AC 上にないとき」でも、M と同じ最短所要時間をとる点があるかもしれない。しかし「最短所要時間が M を超えることはない」というのがここまでの議論。同様に「最短所要時間が最大になる点は $\triangle ABC$ 内に 1 つしかなく、かつそれは線分 AC 上にある」ことも簡単に言えるが省略する。

Comment

「 $\overline{AP} = x$ 」とおくと、「 $y = \overline{PA}' = (\sin 75^\circ)x = f(x)$ 」と「 $y = \overline{PA}'' = 5(1 + \sqrt{3}) - (\cos 75^\circ)x = g(x)$ 」のグラフは図のようになる． $y = f(x)$ は増加関数， $y = g(x)$ は減少関数なので、「 $\min\{f(x), g(x)\}$ が最大」となるのは、「 $f(x) = g(x)$ 」のときと分かる．



【参考】以下のリンクをクリックすると 図形を動かしてみることが出来ます．[GeoGebra](#) というフリーのソフトと, [CabriII](#) の両方で作りました．GeoGebra を動かすには JAVA の動作環境 ([JRE](#)) がインストールされている必要があります．(普通はインストール済みです．) Cabri を動かすには [Plug in](#) が必要です．(リンクから戻る時はブラウザの「戻る」ボタンを使ってください．「閉じる」ボタンを押すと元のファイルも閉じてしまいます．)

- | | | |
|--------------------|--------------------------|-----------------------|
| Q が辺 AB 上を動く時 | GeoGebra | Cabri |
| Q が辺 BC 上を動く時 | GeoGebra | Cabri |
| Q が辺 AB と BC 上を動く時 | GeoGebra | Cabri |